


ജില്ല : കാസർഗോഡ്
 ബി. ആർ. സി ചിറ്റാരിക്കാൽ
വൈറ്റ് ബോർഡ് ഷീറ്റ്

സ്റ്റാൻഡേർഡ് : 2
 വിഷയം : ഗണിതം
 യൂണിറ്റ് : 4
 പാഠം : പൂക്കൾ തേടി
 വർക്ക് ഷീറ്റ് നമ്പർ : 1

ആരംഭം

എണ്ണം.... എഴുതാം....




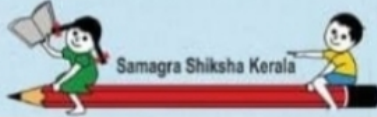
ജില്ല : കാസർഗോഡ്
 ബി. ആർ. സി ചിറ്റാരിക്കാൽ
വൈറ്റ് ബോർഡ് ഷീറ്റ്

സ്റ്റാൻഡേർഡ് : 2
 വിഷയം : ഗണിതം
 യൂണിറ്റ് : 4
 പാഠം : പൂക്കൾ തേടി
 വർക്ക് ഷീറ്റ് നമ്പർ : 2

തുടർച്ച

ആകെ പൂക്കളെത്ര

 100	 10
	 20
	
	
	

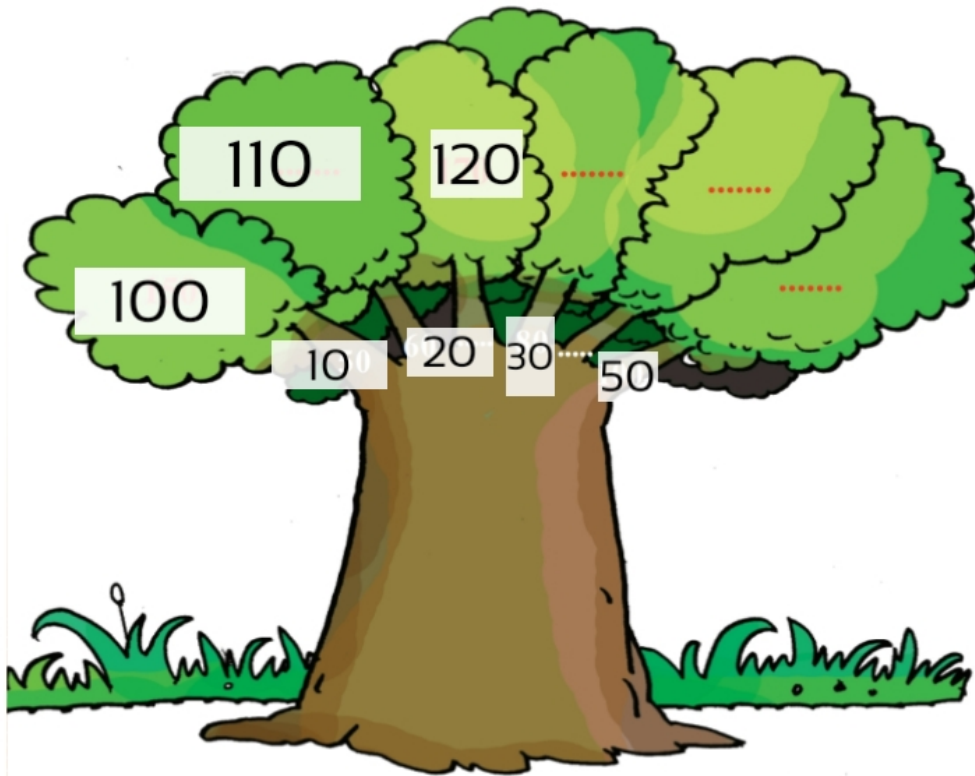



ജില്ല : കാസർഗോഡ്
 ബി. ആർ. സി ചിറ്റാരിക്കാൽ
വൈറ്റ് ബോർഡ് ഷീറ്റ്

സ്റ്റാൻഡേർഡ്	: 2
വിഷയം	: ഗണിതം
യൂണിറ്റ്	: 4
പാഠം	: പൂക്കൾ തേടി
വർക്ക് ഷീറ്റ് നമ്പർ	: 3

തുടർച്ച

സംഖ്യാ മരം
 പൂർത്തിയാക്കുക





ജില്ല : കാസർഗോഡ്
ബി. ആർ. സി ചിറ്റാരിക്കാൽ
വൈറ്റ് ബോർഡ് ഷീറ്റ്

സ്റ്റാൻഡേർഡ് :	2
വിഷയം :	ഗണിതം
യൂണിറ്റ് :	4
പാഠം :	പൂക്കൾ തേടി
വർഷ് ഷീറ്റ് നമ്പർ :	4

തുടർച്ച

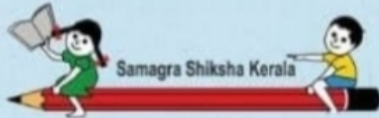
സംഖ്യാചാർട്ട് പൂർത്തിയാക്കുക

$$100+1=$$

$$100+2=$$

$$100+3=$$

$$100+4=$$



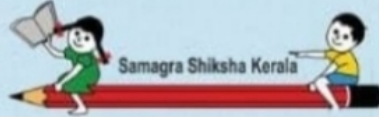
ജില്ല : കാസർഗോഡ്
 ബി. ആർ. സി ചിറ്റാരിക്കാൽ
വൈറ്റ് ബോർഡ് ഷീറ്റ്

സ്റ്റാൻഡേർഡ് : 2
 വിഷയം : ഗണിതം
 യൂണിറ്റ് : 4
 പാഠം : പൂക്കൾ തേടി
 വർക്ക് ഷീറ്റ് നമ്പർ : 5

തുടർച്ച

വിട്ട ഭാഗം പൂരിപ്പിക്കുക

20	30	50	$20 + 30 + 50 = \dots$
30	40	30	$30 + 40 + 30 = \dots$
40	20	40	$\dots + \dots + \dots = \dots$
10	20	60	$\dots + \dots + \dots = \dots$

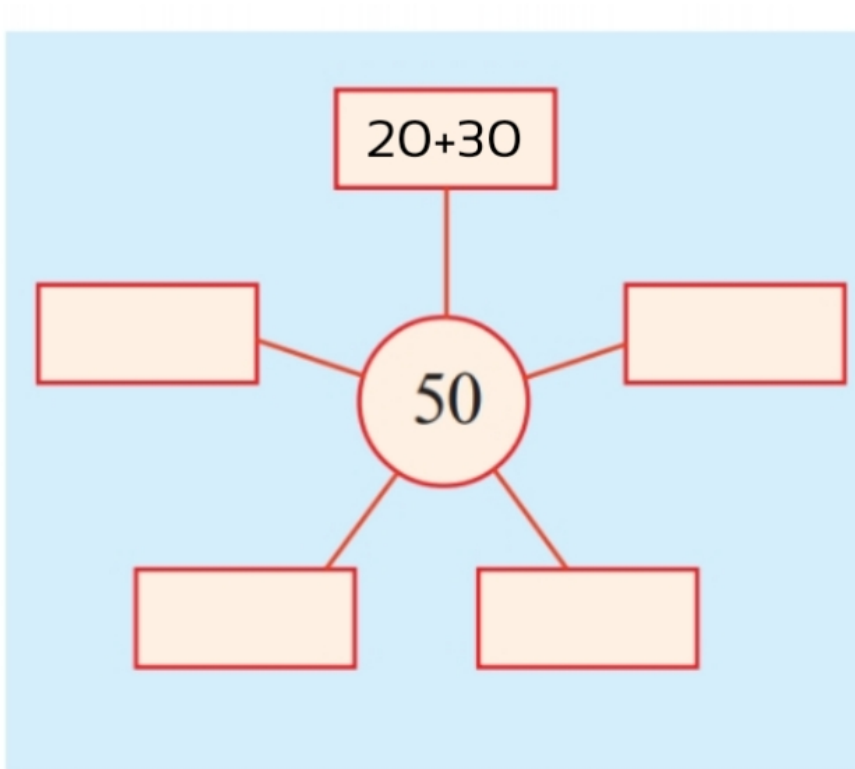


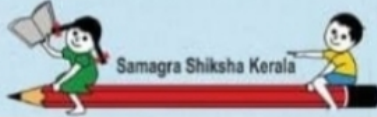
ജില്ല : കാസർഗോഡ്
ബി. ആർ. സി ചിറ്റാരിക്കാൽ
വൈറ്റ് ബോർഡ് ഷീറ്റ്

സ്റ്റാൻഡേർഡ് : 2
വിഷയം : ഗണിതം
യൂണിറ്റ് : 4
പാഠം : പൂക്കൾ തേടി
വർക്ക് ഷീറ്റ് നമ്പർ : 6

തുടർച്ച

ഏതൊക്കെ സംഖ്യകൾ കൂട്ടിയാൽ 50 കിട്ടും?






ജില്ല : കാസർഗോഡ്
ബി. ആർ. സി ചിറ്റാരിക്കാൽ
വൈറ്റ് ബോർഡ് ഷീറ്റ്

സ്റ്റാൻഡേർഡ് : 2
 വിഷയം : ഗണിതം
 യൂണിറ്റ് : 4
 പാഠം : പൂക്കൾ തേടി
 വർക്ക് ഷീറ്റ് നമ്പർ : 7

തുടർച്ച

മാസങ്ങളുടെ പേര് ക്രമമായി എഴുതുക

ജനുവരി			
			ഡിസംബർ



ജില്ല : കാസർഗോഡ്
 ബി. ആർ. സി ചിറ്റാരിക്കാൽ
വൈറ്റ് ബോർഡ് ഷീറ്റ്

സ്റ്റാൻഡേർഡ് : 2
 വിഷയം : ഗണിതം
 യൂണിറ്റ് : 4
 പാഠം : പൂക്കൾ തേടി
 വർക്ക് ഷീറ്റ് നമ്പർ : 8

തുടർച്ച

ഏതൊക്കെ സംഖ്യകൾ കൂട്ടിയാൽ
 100 കിട്ടും

30	+	70	=	100
	+		=	
	+		=	
	+		=	